

PH KONSEP EKONOMI

1. Dibawah ini yang termasuk kegiatan distribusi langsung adalah ...
 - A penjual bakso, penjual tempe, penjual es campur, penjual sayuran, penjual koran
 - ✓ B penjual bakso, penjual tempe, penjual es campur
 - C Warung kelontong, Alfamart, Indomart, toko besi
 - D apotek, bank, SPBU Pertamina

2. Untuk menunjang kualitas produksi barang-barang yang diperdagangkan, setiap negara berusaha ...
 - A meningkatkan hubungan persahabatan antarnegara
 - ✓ B mendorong kemajuan ilmu pengetahuan dan teknologi
 - C mendorong peningkatan kegiatan produksi barang
 - D mengadakan spesialisasi produksi

3. Untuk menghasilkan barang ekspor dibutuhkan tenaga kerja. Oleh karena itu, perdagangan internasional terutama ekspor dapat
 - ✓ A memperluas kesempatan kerja
 - B meningkatkan pendapatan
 - C menstabilkan harga
 - D menghemat biaya produksi

4. Perdagangan internasional muncul akibat adanya kesamaan dalam
 - ✓ A Kepentingan
 - B Sumber daya alam
 - C Letak geografi
 - D Ideologi

5. Berikut ini yang termasuk kelompok sumber devisa adalah
 - A ekspor jasa, impor barang, pinjaman luar negeri
 - ✓ B ekspor barang, ekspor jasa, wisatawan asing
 - C impor barang, ekspor barang, bantuan luar negeri
 - D ekspor barang, impor jasa, hibah dari luar negeri

6. Perhatikan pernyataan berikut! 1) mengurangi pinjaman luar negeri 2) mendatangkan barang dari luar negeri 3) mengirim barang ke luar negeri 4) menambah subsidi untuk pengusaha Hal yang perlu dilakukan suatu negara bila membutuhkan barang yang tidak dihasilkan sendiri ditunjukkan nomor

A 1

B 2

C 3

D 4

7. Negara A menjual produk otomotif ke negara B seharga Rp10.000.000,00. Sedangkan di dalam negeri sendiri seharga Rp18.000.000,00. Kebijakan yang dilakukan oleh negara A adalah

A kuota

B dumping

C diskriminasi harga

D tarif bea masuk

8. Harga barang impor menjadi lebih mahal, karena pemerintah telah melaksanakan kebijakan perdagangan internasional berupa ...

A kuota

B dumping

C diskriminasi harga

D tarif bea masuk

9. Negara X mengeluarkan izin kepada beberapa importir daging sapi. Namun, jumlah importir dan jumlah daging yang diimpor dibatasi. Kebijakan yang diambil negara X merupakan kebijakan

A kuota impor

B larangan impor

C kuota ekspor

D larangan ekspor

10. Keuntungan dari perdagangan internasional dinikmati oleh

A negara kaya

B negara-negara yang terlibat

C negara miskin

D importir

- 11.** Untuk membatasi jumlah barang yang diimpor dapat dilakukan dengan cara
- A mengurangi bea masuk
 - B mempermudah ijin impor
 - C memberikan kredit impor
 - D menaikkan bea masuk
- 12.** Cina adalah sebuah negara yang dapat memproduksi barang dengan biaya produksi yang lebih murah dibandingkan negara lain, sehingga Cina memiliki keunggulan..
- A advantage
 - B comparative
 - C mutlak
 - D absolut
- 13.** Perdagangan Internasional adalah suatu kegiatan perdagangan yang dilakukan antar negara. Salah satu pendorong adanya perdagangan internasional adalah
- A menurunnya volume perdagangan dalam negeri
 - B keinginan negara untuk memenuhi kebutuhan
 - C menurunnya nilai valuta asing
 - D menurunnya daya beli masyarakat
- 14.** Ada negara yang membatasi impor. Alasannya antara lain adalah
- A menjaga deflasi
 - B menjaga inflasi
 - C menambah devisa yang diterima
 - D melindungi produsen dalam negeri
- 15.** Negara sebagai pemasok terbesar barang-barang impor Indonesia adalah.....
- A Cina, Jepang dan Thailand
 - B Perancis, Inggris dan Jerman
 - C Amerika, Vietnam dan Singapura
 - D Philipna, Papua Nugini dan Malaysia

16. Dilihat dari data Badan Pusat Statistik tahun 2018, negara kita tercatat jumlah eksportnya sebanyak US \$180,06 milyar dan jumlah impornya US \$188,63 milyar, maka bentuk Neraca perdagangan Indonesia

- A aktif
- B pasif
- C seimbang
- D surplus

17. Agar perdagangan negara mengalami surplus maka, negara tersebut harus

- A meningkatkan impor dan mengurangi ekspor
- B meningkatkan impor dan ekspor
- C meningkatkan ekspor dan mengurangi impor
- D mengurangi impor dan ekspor

18. Salah satu kesamaan perdagangan domestik dan perdagangan internasional adalah

- A sama-sama harus bertemu langsung
- B penjual dan pembeli tidak perlu berinteraksi secara langsung
- C pembeli dan penjual cenderung bertemu/interaksi langsung
- D sama-sama pembayarannya harus secara langsung

19. Perhatikan kebijakan yang dilakukan pemerintah berikut ini:

- 1) Subsidi
- 2) Dumping
- 3) Larangan impor
- 4) Kuota
- 5) Diskriminasi harga
- 6) Bea masuk impor

dari data diatas, yang merupakan kebijakan dibidang impor adalah....

- A 1), 2), dan 3)
- B 2), 3), dan 4)
- C 3), 4), dan 6)
- D 1), 4), dan 3)

20. Perbedaan perdagangan dalam negeri dengan perdagangan internasional terletak pada

- A** kapasitas barang
- B** tingkat resiko
- C** alat dan cara pembayaran
- D** jenis barang dagangan

21. Kondisi kekurangan tenaga ahli di suatu negara sehingga tidak mampu memproduksi barang berkualitas tinggi dan murah merupakan salah satu pendorong terjadinya perdagangan internasional yang disebabkan

- A** perbedaan upah dan biaya produksi
- B** perbedaan kualitas sumber daya manusia
- C** perbedaan budaya bangsa
- D** perbedaan sumber daya alam

22. Pernyataan berikut yang bukan tergolong kegiatan perdagangan internasional adalah

- A** Ana gemar membeli produk-produk otomotif asal Jepang
- B** Indonesia mengirimkan tenaga kerja ke negara Korea
- C** Adi menjual Batik Solo khas daerahnya ke Bali
- D** Indonesia mengimpor buah kurma dari Arab Saudi selama bulan Ramadhan

23. Negara X memutuskan membeli produk otomotif dari negara Y karena butuh biaya lebih besar bila harus memproduksi produk otomotif sendiri. Perdagangan internasional didasari atas alasan

- A perbedaan teknologi
- B perbedaan sumber daya manusia
- C perbedaan sumber daya alam
- D efisiensi biaya

24. Berikut ini adalah contoh terciptanya peralihan teknologi akibat perdagangan internasional...

- A pemberian pelatihan terhadap teknisi mobil hemat energi yang diimpor Jepang
- B diberlakukannya impor beras guna memenuhi kebutuhan dalam negeri
- C ekspor produk pertanian ke negara yang mengalami kekurangan produk pertanian
- D kurma banyak dibeli negara-negara tetangga karena kurma dapat tumbuh subur di Arab Saudi

25. Anita ingin membeli baju dan sepatu di toko online luar negeri dengan total harga US\$100. Pada saat itu kurs yang berlaku, **kurs beli US\$1 = Rp 14.000,00** dan **kurs jual US\$1 = Rp 14.100,00**. Besar rupiah uang Anita yang harus ditukarkan adalah...

- A Rp. 140.000
- B Rp. 141.000
- C Rp. 1.400.000
- D Rp. 1.410.000

26. Indonesia lebih unggul dalam memproduksi batik dibandingkan Jepang, sedangkan Jepang lebih unggul dibandingkan Indonesia dalam memproduksi TV. maka kedua negara melakukan perdagangan internasional, sehingga negaraindonesia mempunyai

- A keuntungan penawaran
- B keunggulan permintaan
- ✓ C keunggulan mutlak
- D keunggulan komparatif

27. Agar produk disukai oleh pasar atau masyarakat maka produsen perlu memperhatikan hal berikut yaitu

- A patokan harga barang yang tinggi
- ✓ B mengikuti trend dan selera masyarakat
- C promosi barang yang lebih intensif
- D kemudahan dalam memperoleh barang



Perhatikan tabel !

Apabila dilihat dari tabel maka barang-barang impor Indonesia tahun 2020 ...

- A kebutuhan plastik dan barang dari plastik lebih banyak dari mesin dan perlengkapan elektrik
- B kebutuhan obat-obatan lebih banyak dari mesin dan perlengkapan elektrik
- ✓ C kebutuhan mesin dan peralatan mekanis masih mendominasi impor Indonesia
- D Indonesia sudah tidak perlu membangun industri obat-obatan

29. Berikut ini yang merupakan kegiatan ekonomi yang merupakan lingkup ekonomi kreatif!

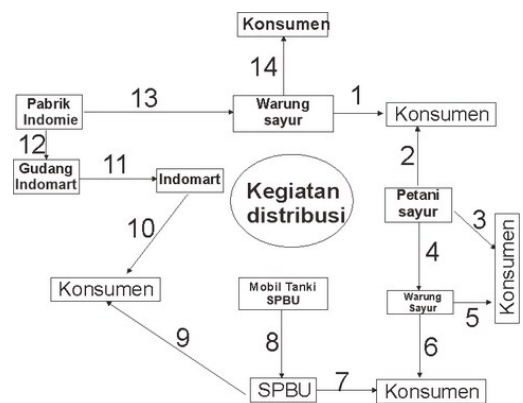
- A ojek pangkalan, gojek, toko online
- B toko online, pasar barang seni, pasar kranggot (cilegon)
- ✓ C pasar barang seni, gojek, toko online
- D ojek pangkalan, pasar kranggot (cilegon), angkot

30. Faktor produksi utama dalam kegiatan ekonomi kreatif yaitu ...

- A SDA, mesin-mesin, dan teknologi
- B Internet, media sosial, dan teknologi
- ✓ C SDM, gagasan, ide dan kreatifitas
- D SDM, internet, mesin-mesin dan kreatifitas

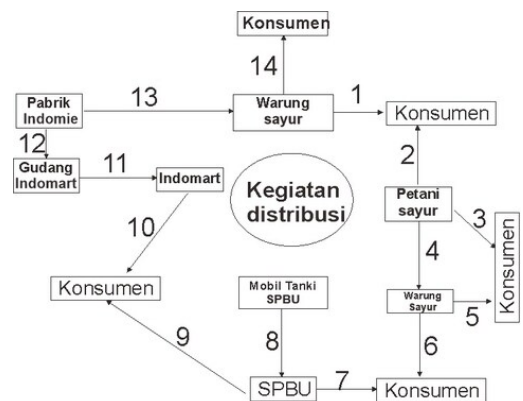
31. Perhatikan alur distribusi!
Yang termasuk jenis distribusi semi langsung terdapat pada nomor ...

- ✓ A 11-8
- B 12-8



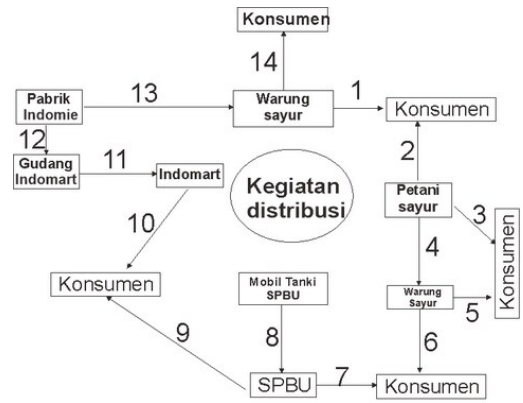
32. Perhatikan alur distribusi!
Yang termasuk jenis distribusi langsung terdapat pada nomor ...

- A 6-5
- ✓ B 2-3



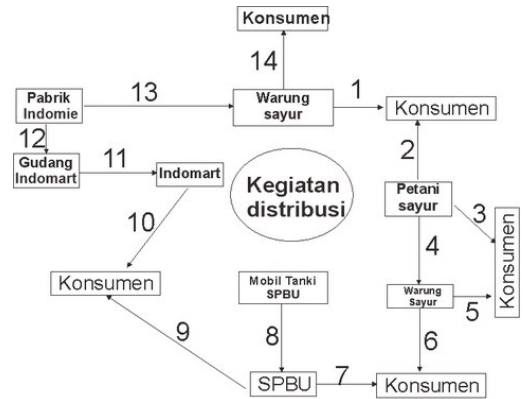
33. Perhatikan alur distribusi!
Yang termasuk jenis distribusi tidak langsung terdapat pada nomor ...

- A 1-2-3
- B 5-6-7
- C 11-12-13



34. Perhatikan alur distribusi!
Nomor 10, 11, dan 12 termasuk jenis distribusi tidak langsung ...

- T True
- F False



35. Perhatikan alur distribusi!
Nomor 8 dan 11 termasuk jenis distribusi tidak langsung ...

- T True
- F False

